

2023年度

札幌日本大学中学校

入学選抜試験

【B日程(1月9日)】

社 会

試験時間 40分


1. 指示があるまで、問題冊子さっしを開いてはいけません。
2. 答えは、解答用紙に記入してください。問題は、**1**～**5**まであります。
3. 試験監督かんとくの先生の指示に従って、試験を開始してください。
4. 試験の途中で、トイレに行きたくなったり、気分が悪くなったりした場合は、手をあげて試験監督の先生の指示を受けてください。
5. 試験開始の指示があってから、解答用紙に「受験番号」「氏名」を記入してください。
6. 解答用紙には、解答以外を記入しないでください。
7. 試験が早く終わっても、周囲を見回したり、横を向いたりしてはいけません。試験監督の先生から注意を受けることがあります。
8. 机の上には、筆記用具以外は置いてはいけません。風邪かぜなどにより、ティッシュペーパーを使用したい場合は、予め試験監督の先生に申し出てください。

- 1 今朝、みなさんは今日の入学試験を乗り切るために、しっかりと朝ごはんを食べてきたことでしょう。この「食べる」という行為は、自然環境の多様さや社会のしくみの複雑さなどとつながっています。さまざまな角度から見える「食」について考えてみましょう。


問1 日本と世界にみられる食文化について、あとの問いに答えなさい。

- (1) 日本各地では、さまざまな郷土料理が作られ受け継がれてきました。次の図に示した都県①～⑥の代表的な郷土料理に当てはまる最も適当な説明文を、あとの(ア)～(カ)から1つずつ選びなさい。





- (ア)  「冷汁」 朝早くから仕事に出かける農家の人が、残った麦ごはんのみそと水を混ぜ、かきこんで食べていたといわれています。山の幸や海の幸、太陽の恵みをいっぱいを受けた夏の野菜が用いられ、食欲のなくなる暑い時期に食べやすい料理です。


[おもな食材：アジ・豆腐・きゅうり・しそ・白味噌・米・おし麦など]


- (イ)  「昆布巻き」 江戸時代に活躍した北前船の寄港地として、北方から運ばれてきた昆布やニシンを使った料理が作られるようになりました。ニシンの干物を昆布で巻いてやわらかく煮た「昆布巻」は“よろこぶ”として、ニシンも子孫繁栄を願う食材として縁起がよいとされています。

[おもな食材：昆布・ニシン・しょうゆ・みりん・砂糖など]

- (ウ)  「年明けうどん」 年間を通して降水量が少ない気候は、うどんの原料となる小麦の栽培さいばいに向いていました。さらに、うどんに必要な塩、しょうゆ、いりこ（カタクチイワシのだし）なども身近ですべて調達できました。年明けの祝いに紅白をイメージし、白いうどんに赤い食材をそえます。
- [おもな食材：うどん・赤い食材（エビ、イクラ、かまぼこ）など]

- (エ)  「おやき」 険しい山が多く寒冷な地域では、小麦やソバが多く栽培されてきました。「おやき」は、小麦粉やソバ粉などを水で溶いて練った生き地に、野沢菜やナス、きのこなど季節ごとに旬しゅんの野菜を調理した具材を包み焼いたものです。
- [おもな食材：小麦粉・丸ナス・みそなど]

- (オ)  「サンマのすり身汁」 サンマは回遊魚で、親潮によって南下してきた10月から11月がこの地域の魚の最盛期さいせいです。地元ではお刺身さしみや塩焼きはもちろんですが、すり身もよく食べられています。野菜などいっしょに汁物に仕立ていただきます。
- [おもな食材：サンマ・大根・ねぎ・豆腐など]

- (カ)  「深川めし」 埋め立て前の沿岸は干潟ひがたが広がる遠浅の海で、たくさんのアサリがとれました。アサリ漁師たちは、さっと煮たアサリのむき身をごはんにのせた「深川めし」をよく食べていました。今は駅弁としても有名で、鉄道の利用を通じて全国の人に食されています。
- [おもな食材：アサリ・ごぼう・さやえんどう・しょうゆ・酒・米など]

農林水産省Webサイト「うちの郷土料理 次世代に伝えたい大切な味」などにより作成。

(2) グローバル化が進んでいる今日、外国の食文化にふれる機会も多くなりました。次のA～Cの文は、^{かんこく}韓国、ベトナム、トルコのいずれかでみられる食文化の特色について述べたものです。A～Cと国名との正しい組み合わせを、下の(ア)～(カ)から1つ選びなさい。

A：羊の肉や野菜などを串焼きにしたケバブという料理がよく知られている。宗教上の理由から豚肉や酒などの食材は使用しない。

B：とうがらしやネギ、しょうが、ニンニクなど辛みや香りの強い野菜のほか、肉や魚介類を多く用いる。白いご飯と汁物を、品数の多いおかずと食べることが多い。

C：フォーという米粉の麺がよく知られている。フランスに統治されていた歴史からフランスの食文化の影響も受けていて、まろやかな味付けの料理が多い。

	A	B	C
(ア)	韓国	ベトナム	トルコ
(イ)	韓国	トルコ	ベトナム
(ウ)	ベトナム	韓国	トルコ
(エ)	ベトナム	トルコ	韓国
(オ)	トルコ	韓国	ベトナム
(カ)	トルコ	ベトナム	韓国

問2 食糧生産を支える産業について、あとの問いに答えなさい。

(1) 次の表中の(ア)～(オ)は、埼玉県・山梨県・新潟県・富山県・宮崎県のいずれかで、農業生産額と米・野菜・果実・畜産・その他の農業生産額にしめる割合を示したものです。埼玉県と富山県に当てはまるものを、表中の(ア)～(オ)から1つずつ選びなさい。

	農業産出額 (億円)	農業産出額にしめる割合 (%)				
		米	野菜	果実	畜産	その他
(ア)	3429	5.2	19.5	3.8	64.4	7.1
(イ)	953	6.6	11.8	66.0	8.1	7.5
(ウ)	654	69.3	8.9	3.2	13.7	4.9
(エ)	2426	58.7	14.2	3.1	19.4	4.6
(オ)	1758	21.0	47.4	3.5	14.8	13.3

統計年次は2018年。農林水産省「生産農業所得統計」により作成。

- (2) 次のA～Dの図は、日本国内において農業がさかんな地域を示したもので、下の(ア)～(エ)の文は、A～Dのいずれかの土地利用の様子を説明したものです。A～Dの説明として最も適当なものを、(ア)～(エ)から1つずつ選びなさい。



A



B



C



D

国土地理院ホームページ「地理院地図」により作成。
等高線は10m間隔で引かれている。

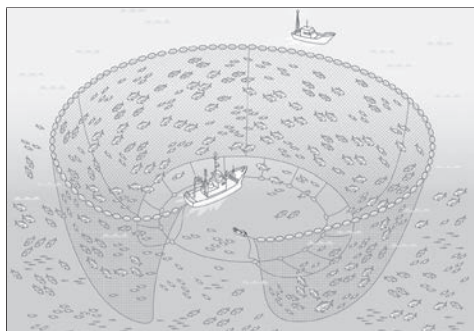
- (ア) 山地の斜面を利用した段々畑で果樹の栽培がおこなわれている。
 (イ) 干拓された海面より低い土地に水田がみられる。
 (ウ) 防砂林が風で飛んでくる砂を食い止めて低地に広がる農地を守っている。
 (エ) 土地の高いところでは茶畑が、土地の低いところでは水田がみられる。

(3) 次のA～Cの文は、日本近海で見られる漁法について述べたもので、下の①～③は、A～Cのいずれかの漁法をイラストで示したものです。A～Cと①～③の正しい組み合わせを、あとの(ア)～(カ)から1つ選びなさい。

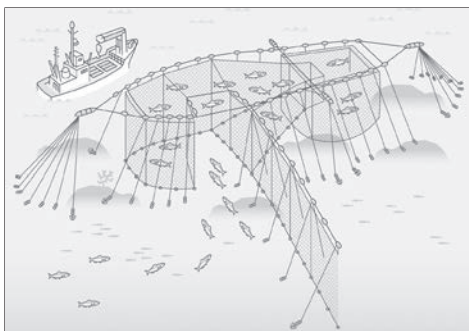
A：おもに沿岸の海底にすむカレイやヒラメ、タラなどをねらう漁法であるが、目的としていない生き物をとらないように、また海底の生態系にダメージをあたえないように注意が必要である。

B：沖合や沿岸で泳ぎ回るアジやサバ、イワシ、マグロなどを群ごとねらう漁法で、効率よく一度に大量の魚をとることができるが、^{らんかく}乱獲という問題につながることもある。

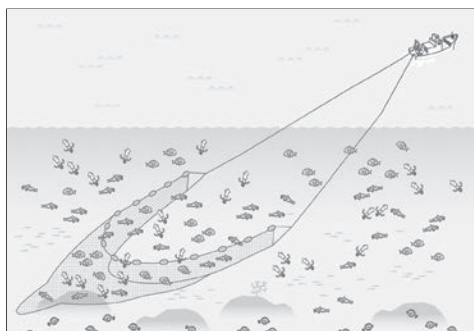
C：季節ごとにどんな魚がどこでとれるかという情報や魚の習性、沿岸の潮の流れなどを読む「待ち」の漁法で、他の漁法にくらべて魚をとり過ぎることがなく、海に与える影響が少ないといわれている。



①



②



③

	A	B	C
(ア)	①	②	③
(イ)	①	③	②
(ウ)	②	①	③
(エ)	②	③	①
(オ)	③	①	②
(カ)	③	②	①

農林水産省Webサイト「漁業種類イラスト集」により作成。

問3 日本の食料自給率について述べた次の文中の に当てはまる語句を答えなさい。

農林水産省の統計によると、重量から計算した2019年の日本のおもな食料の自給率は、米97%、小麦16%、大豆6%、野菜79%、果実38%、牛肉35%、豚肉49%、鶏肉64%、卵96%、牛乳・乳製品59%です。これらのなかで下線部の畜産物についてのみ、 の自給率を考慮した場合の数値は、牛肉9%、豚肉6%、鶏肉8%、卵12%、牛乳・乳製品25%となり、すべて大幅に低くなります。食料自給率が低いと何らかの理由で食料を外国から輸入できなくなった場合にたいへん困ることになります。

問4 日本が多く輸入している食料品について、あとの問いに答えなさい。

- (1) 次の表は、3つの食料品（サケ、コーヒー豆、オリーブ油）の輸入額をもとに、日本の輸入相手国上位3カ国を示したもので、表中のA～Cはイタリア、チリ、ブラジルのいずれかです。A～Cと国名との正しい組み合わせを、下の(ア)～(カ)から1つ選びなさい。

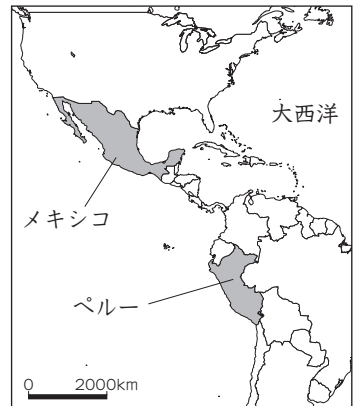
	サケ	コーヒー豆	オリーブ油
1位	A	B	スペイン
2位	ノルウェー	コロンビア	C
3位	ロシア	ベトナム	トルコ

統計年次は2019年。 農林水産省「農林水産物輸出入統計」により作成。

	(ア)	(イ)	(ウ)	(エ)	(オ)	(カ)
A	イタリア	イタリア	チリ	チリ	ブラジル	ブラジル
B	チリ	ブラジル	イタリア	ブラジル	イタリア	チリ
C	ブラジル	チリ	ブラジル	イタリア	チリ	イタリア

- (2) 冬に売られているカボチャの産地を見ると、ニュージーランドやトンガといった（あ）に位置する国が多く、日本と（い）であることを生かした出荷しゅっかをしていることがわかります。（あ）と（い）に当てはまる言葉を、それぞれ答えなさい。

(3) 熱帯性の果実のアボカドは、栄養価が高く健康に良いとされて人気が高まり、日本への輸入量が増えています。その産地を見ると、ほとんどが右図に示したメキシコとペルーです。日本がこれらの国からアボカドを大量に輸入することは、地球規模の環境問題につながる、という指摘してきもあります。このように指摘される理由を、「輸送」という語句を用いて説明しなさい。



問5 世界が直面している食料問題について述べた次の文中の(X)と(Y)に当てはまる地域名の正しい組み合わせを、あとの(ア)~(カ)から1つ選びなさい。

2021年5月の国連食糧計画しよくりょうの報告によれば、世界人口の約9%にあたる6億9,000万人もの人びとが毎晩空腹のまま眠りねむについています。栄養不足の人びとの数が最も多いのは(X)で3億8,100万人ですが、地域ごとの割合でみると(Y)が最も多く、19%強となっています。

	(ア)	(イ)	(ウ)	(エ)	(オ)	(カ)
X	アジア	アジア	アフリカ	アフリカ	南アメリカ	南アメリカ
Y	アフリカ	南アメリカ	アジア	南アメリカ	アジア	アフリカ

問6 次の資料Aは、自治体が作成したポスターで、資料Bは季節商品をあつかう販売店のお知らせです。どちらも共通して をなくすための取り組み事例を示しています。 に当てはまる言葉を答えなさい。

【資料A】



【資料B】

もうすぐ節分ですね。
 恵方巻えほうきのご予約受付中です。
 △△マート〇〇店 店長

「神奈川県ホームページ」より引用、一部改変。

- 2 海女^{あま}さんを知っていますか？ 海女とは、海にもぐってアワビなどをとる女性のことです。中学生のやよいさんは、「海女さんとアワビの歴史」について調べています。やよいさんのメモを見て、あとの問いに答えなさい。

やよいさんのメモ

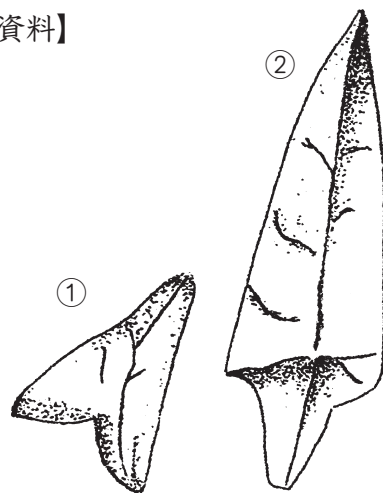
- [1] 縄文時代^{じょうもん}の からアワビの貝がらや、アワビを岩からはがしとるための骨角器が出てくることがある。
- [2] 弥生時代^{やしや}の『魏志倭人伝^{ぎしわじんてん}』には「倭人は海中にもぐり、魚やアワビをとる」という記事がある。
- [3] 平城京に干しアワビが税として納られる。
- [4] 海女さんの漁を見た清少納言は「女の海女が海にもぐっている間、男は船の上で鼻歌を歌っている」と『枕草子^{まくらのそうし}』に書いている。
- [5] 鎌倉時代^{かまくら}の武士の食事は、貴族とちがって質素で、玄米^{げんまい}を主食に、おかずは干しアワビや梅干し、いのしし・しかなども食べた。
- [6] 江戸時代、干しアワビやフカヒレは、俵につめられて中国などに輸出された。

問1 [1] の は「縄文時代のごみ捨て場」といわれることがあります。
 に当てはまる語句を漢字2字で答えなさい。

問2 次の資料は [1]・[2] の時代の石器で、【資料】

矢の先につける矢じりです。①は縄文時代、②は弥生時代のもので、弥生時代になると矢じりは大きくなり、大量生産されるようになりました。①は（ A ）の道具でしたが、②は（ B ）の道具として用いられたと考えられています。

- (1) （ A ）と（ B ）に当てはまる最も適当な語句をそれぞれ答えなさい。
- (2) 弥生時代になると（ B ）が始まった理由を説明しなさい。



大きさ 23cm 大きさ 48cm

問3 次の資料は [3] の時代の の歌です。 は九州の守りにあたった兵士のことです。 に当てはまる語句を答えなさい。

【資料】

からころも すそに取りつき 泣く子を 置いてそ来ぬや 母なしにして
意味：着物のすそにとりすがって泣く子どもたちを、私は家においてきて
しまったなあ。あの子たちは母もないのに、今ごろどうしている
のだろうか。 (『万葉集』より)

問4 [4] の時代の貴族の文化として適当でないものを、次の(ア)～(オ)から2つ選
びなさい。

(ア) 茶の湯 (イ) いけ花 (ウ) セタ (エ) 囲碁 (オ) ひなまつり

問5 次の資料は [5] の時代の武士をえがいたものです。武士のくらしについ
て述べた下の文中の (A) ～ (C) に当てはまる語句をそれぞれ漢
字で答えなさい。

【資料】



頼朝は、家来になった武士たちに先祖代々の (A) の支配をみとめたり、新たな (A) を与えたりした。このようなご恩に対して武士たちは、
鎌倉や京都を守る役を務め、いざという時には幕府のある鎌倉にかけつけ
て奉公した。武士は (A) を守るために日ごろから武芸をみがいて戦
いに備え、とくに (B) を射ることや (C) に乗ることは、子ども
のころから厳しく教えられた。

問6 愛知県には、[5] の時代から続く焼き物の産地があります。その一つの [] 焼は、江戸時代に尾張藩^{おわりはん}の保護のもとで新たな技術が加わって改良され、 [] 物といえ、焼き物をあらわす呼び名となるほど発展しました。 [] に当てはまる語句を漢字で答えなさい。

問7 [6] の時代の魚市場では、千葉のイワシ、北海道のニシンがたくさん取引されていたという記録があります。イワシとニシンは食べるのではなく [] として使うために多く売り買いされました。 [] に当てはまる語句を漢字で答えなさい。

問8 次の資料は [] 王国の城を復元したものです。[6] の時代、 [] 王国を通じて中国や東南アジアとの貿易がおこなわれました。 [] に当てはまる語句を漢字で答えなさい。

【資料】



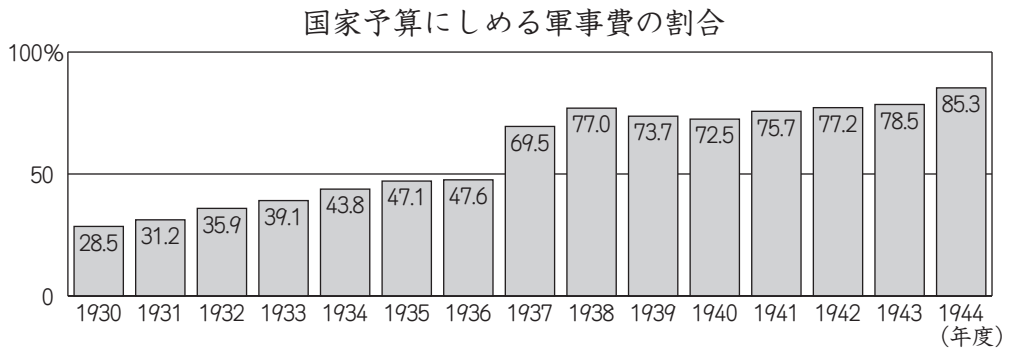
3 長く続いた戦争の時代について、あとの問いに答えなさい。

問1 次の①②は、朝鮮半島と日本をめぐるできごとです。①②が起きた時期として正しいものを、年表中の(ア)～(オ)から1つずつ選びなさい。

- ①朝鮮半島全土で大きな独立運動が起こる
- ②朝鮮が日本の植民地になる

(ア)
日清戦争が始まる
(イ)
日露戦争が始まる
(ウ)
第一次世界大戦が始まる
(エ)
第二次世界大戦が始まる
(オ)

問2 次のグラフは1930年から1944年の国家予算にしめる軍事費の割合を示すもので、1937年に割合が増えていることがわかります。1937年のできごとを、下の(ア)～(エ)から1つ選びなさい。



大蔵省（当時）の統計により作成。

- (ア) 3月の東京大空襲をはじめ、全国各地で空襲の被害が広がり、名古屋城も焼けてしまった。
- (イ) 満州にいた日本軍が南満州鉄道を爆破し、これを中国軍のしわざとして戦争をはじめた。
- (ウ) 日本軍はイギリス領のマレー半島や、ハワイのアメリカ軍基地を攻撃し、東南アジアや太平洋が戦場となった。
- (エ) 日本と中国の戦争が中国全土に広がり、首都のナンキンでは多くの中国人が殺害された。

問3 1940年、ほとんどの□が解散し、戦争に反対することがしだいに難しくなっていました。その後、□は戦後の改革によって復活しました。日本国憲法は、自由に□をつくったり、これに参加したりすることを保障しています。

□に当てはまる語句を漢字2字で答えなさい。

問4 次の資料は、1941年12月に文部省（当時）が大学に対して出した指示です。資料中の「現大学2年生」とは、1940年4月に大学に入学した学生のことです。本来なら4年後の1944年3月に大学を卒業するはずですが、文部省は「1942年9月に卒業させるように」と指示しました。このような指示を出した理由を答えなさい。

【資料】

- 1 現大学2年生の卒業時期は1942年9月とすること。
- 2 これを実現するため毎週の授業時間数をくふうすること。
- 3 3年生の授業科目を前倒しして2年生で学習させてもかまわないこと。
- 4 冬休みや春休みは短縮すること。

4 次の文章を読み、それぞれあとの問いに答えなさい。

今年で①日本国憲法は施行されてから一度も改正されることなく75年を迎えます。この憲法は、②戦後最初の衆議院議員総選挙で選ばれた議員が参加した、第90回帝国議会において、大日本帝国憲法を改正するかたちで制定されました。形式的には旧憲法の改正手続きによる制定でしたが、実質的には、まったく新しい憲法といえるものでした。

③大日本帝国憲法では、天皇の権限が広く認められている反面、議会の権限は小さく、国民の権利の保障は不十分でしたが、日本国憲法の制定により体制は大きく変わりました。天皇の神格性は否定され、日本国および国民統合の象徴となり、その地位は根本的に転換しました。その一方で国民主権が宣言され、④国民の権利は拡大し、その保障も強化されました。

また、日本国憲法の重要な特徴として、徹底した平和主義があります。日本は日清戦争・⑤日露戦争やアジア太平洋戦争といった戦争をくり返し、アジア諸国に大きな被害を与え、⑥みずからも悲惨な体験をしました。憲法の前文では、政府の行為によって二度と戦争を起さないと誓っていますが、これは戦争が最も悲惨な人権侵害につながるからです。また、第9条では、戦争の放棄が明記されており、この誓いを達成しようとしています。

そのような日本国憲法ですが、改正に関する議論が依然として続いています。現在の政党の中には、「自衛隊の憲法明記」などを内容とする改正案を発表し、憲法改正に積極的な姿勢を見せている政党もあります。しかし⑦日本国憲法は通常の法律よりも改正手続きが厳しい仕組みとなっており容易に改正することはできません。これは最高法規である憲法が安易に改正されないようにするためとされています。憲法改正についてどのように考えるか、最終的に判断するのは国民投票を行う国民ですから、関心をもってニュースを読み解くことが必要です。

問1 下線部①について、日本国憲法の公布された日は現在何という国民の祝日となっているか答えなさい。

問2 下線部②について、この選挙の一つ前の衆議院議員総選挙において、選挙権が与えられていた人の条件を答えなさい。

問3 下線部③について、大日本帝国憲法で定められた天皇の権限として、誤っているものを1つ選びなさい。

- (ア) 軍隊を率いる権限 (イ) 条約を結ぶ権限
 (ウ) 法律・予算を審議する権限 (エ) 大臣を任命する権限

問4 下線部④について、日本国憲法の条文で定められた国民の権利として、誤っているものを1つ選びなさい。

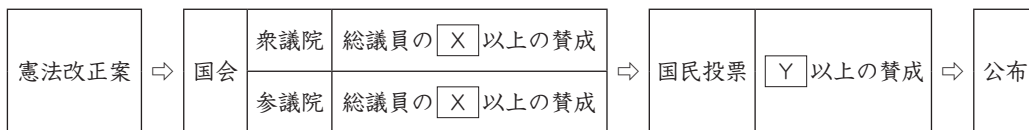
- (ア) 教育を受ける権利 (イ) 健康で文化的な生活を営む権利
 (ウ) 政府による権力の不当な行使に抵抗する権利
 (エ) 居住や移転・職業を選ぶ自由

問5 下線部⑤について、右の写真の人物は、日露戦争の際に反戦詩を発表したことで知られる人物です。この人物の名前を漢字で答えなさい。



問6 下線部⑥について、唯一の戦争被爆国である日本は、戦争と原爆の悲劇くり返さないために、1971年に「核兵器を \square 」という非核三原則を国会で決議しました。 \square にあてはまる言葉を答えなさい。

問7 下線部⑦について、日本国憲法改正の手続きについて、次の図の \square X と \square Y にあてはまる語句の組み合わせとして正しいものを、あとの(ア)~(エ)から1つ選びなさい。



- (ア) X：3分の2 Y：過半数 (イ) X：過半数 Y：3分の2
 (ウ) X：3分の2 Y：3分の2 (エ) X：過半数 Y：過半数

5 2022年に起こったことを振り返る各問いの文章の（ ）にあてはまる語句（人名、名称、数字など）を答えなさい。

問1 10月7日 今年の（ ）賞には、1個人（ベラルーシの人権活動家）と2団体（ロシアの人権団体、ウクライナの人権団体）が選ばれました。受賞したウクライナの人権団体「市民自由センター」はロシアによる戦争犯罪を記録しています。

問2 10月25日 イギリスの新しい首相に（ ）元財務相が就任しました。インド系の（ ）新首相はイギリスでは初となるアジア系の首相であり、42歳での首相就任は戦後では最年少です。

問3 11月6日 第27回気候変動枠組条約締約国会議（ ）27がエジプトで開幕しました。（ ）は国連で毎年開催される気候変動対策を話し合う会議で、1997年に京都で開催された（ ）3では、先進国の温室効果ガス削減目標を定めた「京都議定書」が採択されています。

下書用紙

