

2023年度

札幌日本大学中学校

入学選抜試験

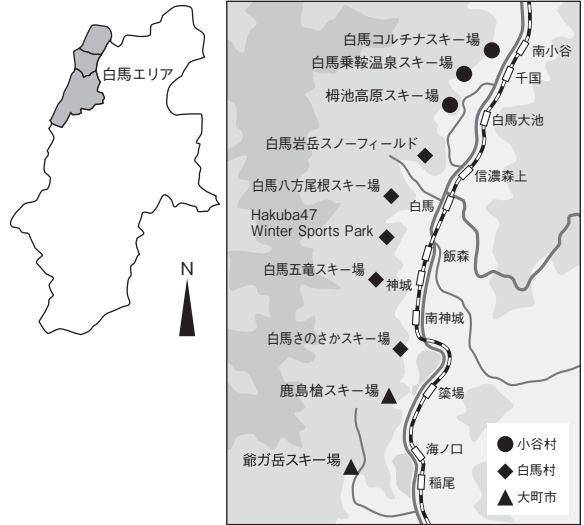
【A日程(1月7日)】

社 会

試験時間 40分

1. 指示があるまで、問題冊子さっしを開いてはいけません。
2. 答えは、解答用紙に記入してください。問題は、**1**～**4**まであります。
3. 試験監督かんとくの先生の指示に従って、試験を開始してください。
4. 試験の途中で、トイレに行きたくなったり、気分が悪くなったりした場合は、手をあげて試験監督の先生の指示を受けてください。
5. 試験開始の指示があってから、解答用紙に「受験番号」「氏名」を記入してください。
6. 解答用紙には、解答以外を記入しないでください。
7. 試験が早く終わっても、周囲を見回したり、横を向いたりしてはいけません。試験監督の先生から注意を受けることがあります。
8. 机の上には、筆記用具以外は置いてはいけません。風邪かぜなどにより、ティッシュペーパーを使用したい場合は、予め試験監督の先生に申し出てくださ
い。

1 花子さんは、スキー部の合宿で、長野県の白馬エリアを訪れました。白馬村のとなりにある小谷村、大町市の地域をまとめて白馬エリアと呼びます。地図のように、多くのゲレンデがあり、冬はスキー客でにぎわいます。ゲレンデは外国の人が多く、泊まった宿は外国人の方がオーナーでした。花子さんは、気になって長野県や白馬エリアについて詳しく調べてみることにしました。



「がんばるChubu 観光地域づくり編 2019年1月号」掲載図を参考に作成。

問1 花子さんは、長野県は海に面していないことに気づきました。こうした県を内陸県といいます。内陸県についてまとめた次の文章の（ ）に当てはまる数字と県名をそれぞれ答えなさい。

日本の47都道府県のうち、内陸県は長野県をふくめて全部で（ ① ）つあります。1つの内陸県以外は、他の内陸県どうし県境で接しています。他の内陸県と接していないその1つの内陸県とは（ ② ）県です。

問2 以下の文章の に共通して当てはまる運ばれたモノを漢字1文字で答えなさい。

この白馬エリアには、小谷村の「千国」という地名からとった千国街道が通過しており、「の道」としても知られています。内陸県だからこそ、海の物を取り入れるため、人々は古代からこの道を利用し、整備してきました。5月のゴールデンウィークには、千国街道を歩く催しが行われます。花子さんも参加してみました。写真は、小谷村に残る唯一の倉庫で、幕末ごろに建てられたものです。この倉庫では、



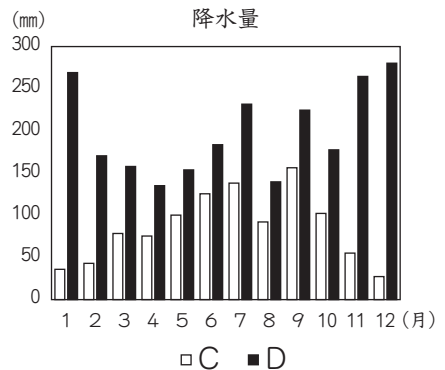
小谷村ホームページより引用

日本海から運ばれた を保管したため、金属だとさびてしまうため釘くぎを使っていないことが特徴です。上杉謙信うえすぎけんしんがこの道を通り、 を送り、長年敵対関係にあった武田信玄たけだしんげんを助けたという言い伝えが残っています。

問3 花子さんは、内陸に位置する長野県の気候の特性を調べるために、長野県の松本市と、日本海に面する石川県の金沢市と比べてみました。次の図は、その2つの都市の1月と7月の平均気温、降水量をそれぞれ比べたものです。長野県松本市の気温と降水量の組み合わせとして正しいものを、下の(ア)~(エ)から記号で1つ選びなさい。



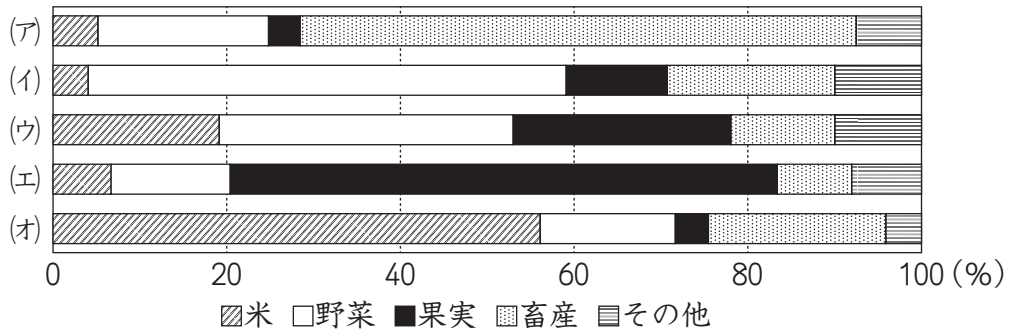
平均気温 (°C)		
	1月	7月
A	3.8	25.3
B	-0.4	23.6



気象庁データより作成。

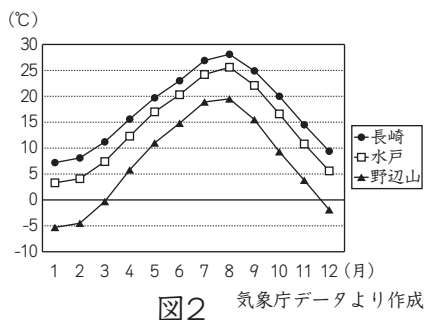
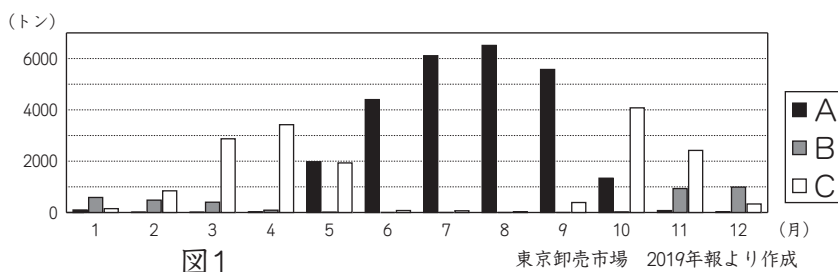
	(ア)	(イ)	(ウ)	(エ)
気温	A	A	B	B
降水量	C	D	C	D

問4 花子さんは、長野県の農業について調べました。秋田県、山梨県、長野県、神奈川県、宮崎県の5つの県について、農業産出額にしめる米、野菜、果実、畜産の割合（2017年）を比べてみました。長野県と宮崎県に当てはまるものを、下の(ア)～(オ)からそれぞれ1つずつ選びなさい。



「データでみる県勢 第29版」より作成。

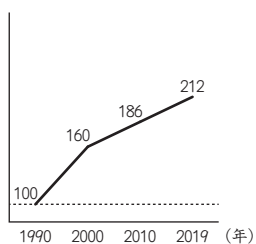
問5 花子さんは、長野県で多く栽培されているレタスについて調べました。次の図1は、東京卸売市場における長野県、茨城県、長野県のレタスの月別出荷量をあらわしたものです。また、図2は長崎（長崎県）、水戸（茨城県）、野辺山（長野県）の月平均気温を表したものです。図2を参考にして、図1のA～Cに当てはまる県名の組み合わせとして正しいものを、下の(ア)～(カ)から1つ選びなさい。



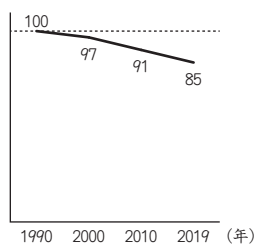
	A	B	C
(ア)	長崎県	茨城県	長野県
(イ)	長崎県	長野県	茨城県
(ウ)	茨城県	長崎県	長野県
(エ)	茨城県	長野県	長崎県
(オ)	長野県	長崎県	茨城県
(カ)	長野県	茨城県	長崎県

問6 近年、高原野菜の産地では、農作業を外国人にたよってきました。花子さんは、日本における外国人労働者の受け入れ理由や現状について調べてみました。以下の問いに答えなさい。

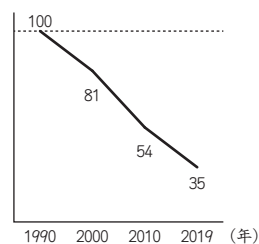
(1) 以下のP～Rは、日本における(ア)～(ウ)の3つの項目について、1990年から今日までの移り変わりを調べたものです。それぞれ1990年の統計値を100として、それ以降の変化をグラフにしたものです。Qに当てはまるものを、下の(ア)～(ウ)から1つ選びなさい。



P



Q



R

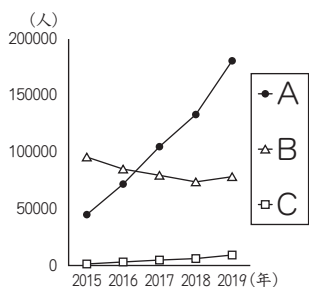
「日本国勢図会」より作成。

(ア) 農業で働く人の数

(イ) 農業で働く人のうち、65歳以上の割合

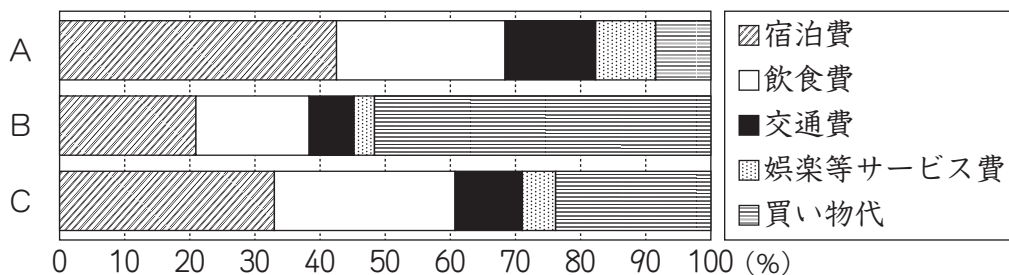
(ウ) 生産年齢人口^{ねんれい}※の割合 ※生産年齢人口とは、15歳以上65歳未満の人口のことである。

(2) 2019年、日本政府は、より多くの外国人労働者を受け入れることができるようにしました。特に外国人技能実習生の割合が増えています。日本でつちかわれた技能・技術や知識を開発途上地域などに伝えることで、人材育成面での国際貢献^{こくけん}をすることが目的とされています。次のグラフは、中国、ミャンマー、ベトナムの3カ国について、外国人技能実習生の受け入れ数の推移を示しています。A～Cの国の組み合わせとして正しいものを、下の(ア)～(カ)から1つ選びなさい。



	A	B	C
(ア)	中国	ミャンマー	ベトナム
(イ)	中国	ベトナム	ミャンマー
(ウ)	ミャンマー	中国	ベトナム
(エ)	ミャンマー	ベトナム	中国
(オ)	ベトナム	中国	ミャンマー
(カ)	ベトナム	ミャンマー	中国

問7 次のグラフは、中国、韓国、イギリスから日本を訪れた観光客が、滞在した期間中にお金を何に使っているかを割合（％）で示したものです。A～Cと国名の組み合わせとして正しいものを、下の(ア)～(カ)から1つ選びなさい。



資料「訪日外国人の消費動向 2019年 年次報告書（国土交通省観光庁）」より作成

	(ア)	(イ)	(ウ)	(エ)	(オ)	(カ)
A	中国	中国	韓国	韓国	イギリス	イギリス
B	韓国	イギリス	中国	イギリス	中国	韓国
C	イギリス	韓国	イギリス	中国	韓国	中国

問8 日本ではスキー人口の減少によるスキー場の閉鎖が相次いでいます。そんな中、白馬エリアは、外国人観光客の訪れによって、再び活性化していることを知りました。国・地域別に白馬村

出身国・地域	人数	構成比
オーストラリア	166,590	59.7%
香港	22,687	8.1%
アメリカ	13,489	4.8%
台湾	11,475	4.1%
中国	11,432	4.1%

観光統計 白馬村 2019 より作成

を訪れる外国人観光客（2019年）を調べてみると、オーストラリアからの観光客が半分以上だとわかりました。長期間白馬村に滞在し、スキーやスノーボードを楽しみます。なぜ日本の白馬村は、オーストラリアの人々にとって人気があるのでしょうか。それについて述べた文章のうち、() に当てはまる語句をそれぞれ記号で答えなさい。

他の国や地域と比べてみると、日本とオーストラリアとの (① (ア) 緯度 (イ) 経度) の関係から、オーストラリアの (② (ア) 夏 (イ) 冬) に、日本ではスキーやスノーボードを楽しめます。また、(③ (ア) 緯度 (イ) 経度) の差は少ないので、時差なく楽しめます。

問9 2020年7月に「自然災害伝承碑^ひ」という右の地図記号が追加されました。後世の私たちに伝えるために先人たちが記した災害の石碑やモニュメントをあらわしています。花子さんは、白馬エリアの自然災害について調べました。そして、小谷村には数多くの自然災害に関する伝承やことわざが残っていることを知りました。次のことわざが見通している災害を、漢字3文字で答えなさい。その災害は、ピクトグラムだと下の図のように表されます。



【言い伝え】 黒にごり、出たら危ない 沢の濁^{にご}り、山が動くしらせ

「朝日新聞」1996年12月6日付

【防災用ピクトグラム】



2 次の文章を読み、以下の問いに答えなさい。

①原始時代、日本に住んでいた人たちがどのような社会をつくり、どんな生活をしてきたか、地中に残されたものから推測します。中国から②漢字が伝わると、それを日本語にあてはめて、さまざまな記録が残されました。聖徳太子の憲法は役人の心がまえをしめしたもので、現在の憲法とはだいぶちがいますが、③大化の改新以降、中国の律令という法律をもとに日本でも律令がつくられます。これはぼうだいな条文をもち、この後長いあいだ日本社会の決まりとして、いきつづけます。

武士の世の中になると、④御成敗式目がつくられます。これは武士の裁判の基準になった法律です。室町時代にも御成敗式目はいきつづけます。江戸時代になると条文の意味はなくなりますが、調子のよい日本語の文章の模範として⑤寺子屋や手習所の「読み・書き」の教科書として御成敗式目はつかわれたそうです。

戦国時代には、各⑥戦国大名が分国法という法律をそれぞれに決めました。江戸時代は、武士には⑦武家諸法度など、身分ごとにさまざまな法律がつくられました。

明治時代になり、⑧欧米に追いつくためにも、⑨大日本帝国憲法が定められます。さらに民法、刑法などの六法がつくれ、近代国家として国際的地位の向上がはかられていきます。しかし満州事変以降のアジア太平洋戦争で、法律も戦争をすすめることが最優先されるようになりました。

戦後日本の再出発は、アメリカを中心とした連合国の指導のもと、戦後改革がおこなわれますが、その中心は日本国憲法の制定でした。日本国憲法でしめされた原則は、さまざまな法律によって具体化されてきました。ただし、すべてが実現したわけではありません。どうしたらよいか、一緒に考えていきましょう。

問1 下線部①、原始時代の日本について適当でないものを、下の(ア)～(エ)から1つ選びなさい。

- (ア) 縄文時代の生活は、何日も食べ物が手に入らないなど自然とのきびしいたかひの日々だった。しかし、子ども時代に伝染病をのりきると、鍛えあげられた身体のおかげで長生きし、平均寿命は60歳ほどだった。
- (イ) 青森県の三内丸山遺跡からは、表面に縄目の文様のついた土器や、木の皮であんだポシエツト、石皿とすり石、動物の骨や角でつくったつり針などがみつまっている。

- (ウ) 米づくりがはじまると、木製の鍬や鋤で耕し、もみを直播し、石包丁で稲穂をかりとっていたが、だんだんと鉄の刃先のついた鍬や鋤、鉄鎌がつかわれ、田植えもおこなわれるようになっていった。
- (エ) 日本各地で10万基以上みつかっている古墳には、円墳、方墳、前方後円墳、上円下方墳、ほたて貝式などさまざまな形のものがある。

問2 下線部②について、熊本県江田船山古墳と埼玉県稲荷山古墳から同じ「ワカタケル□□□□」と漢字できざまれている刀剣が発見されている。□にあてまはる語句をカタカナで答えなさい。

問3 下線部③について適当でないものを、下の(ア)～(エ)から1つ選びなさい。

- (ア) 聖徳太子の死後、蘇我氏がおうぼうなふるまいをして、天皇家をしのぐほどの勢いをもつようになったことが原因である。
- (イ) のちに天皇になった中大兄皇子と、のちに藤原鎌足となった中臣鎌足が、有力豪族の蘇我氏をたおして改革をはじめた。
- (ウ) 中国から帰国した改革派の役人や僧侶が、この改革の中心となって大きな働きをした。
- (エ) 天皇中心の国づくりをすすめるため、全国の土地と人びとを六十余国に分けて、それぞれの地域の豪族に支配させることとした。

問4 下線部④がだされたころのようすとして最も適当なものを、下の(ア)～(エ)から1つ選びなさい。

- (ア) それぞれ地方の反乱をしずめるなどして、源氏は東日本に、平氏は西日本に勢力をのばしていった。
- (イ) 武士の館は、門の上に物見やぐらをおき、畳張りの日本間では和歌や俳句、将棋を楽しみ、石庭では蹴鞠や場から弓を射る競技がおこなわれた。
- (ウ) 北条政子の「頼朝公のご恩は、山よりも高く、海よりも深い」という演説をきいて、武士たちは団結して戦い、幕府の力が西国にまでとどくようになった。
- (エ) 巨大な帝国を築きあげたモンゴル軍が攻めてきて、御家人たちが火薬兵器で戦った。

問5 下線部⑤に関して、江戸時代の教育について述べた次の文のうち正しいものを、下の(ア)～(エ)から1つ選びなさい。

- (ア) 教育のさかんな名古屋では、尾張藩おわりはんがつくった寺子屋が1000か所以上もあり、明治時代になるとそれらがそのまま小学校へかわっている。
- (イ) 江戸や大阪などの都市の文化は全国へ広まり、地方都市にも寺子屋ができたが、いなかの村では先生がいなかったので、百姓ひやくしやうのための寺子屋はほとんどつくられなかった。
- (ウ) 寺子屋の教育がさかんだったこともあり、日本は世界的にみても、文字が読める人の割合が高い国だった。
- (エ) 寺子屋での勉強を終えると、熊本藩の時習館のような藩がつくった藩校で学ぶことが決められており、そのために全国で260以上の藩校がつけられた。

問6 下線部⑥について適当でないものを、下の(ア)～(エ)から1つ選びなさい。

- (ア) 九州の島津しまづ、中国の毛利もうり、四国の長宗我部ちやうそかべ、関東の北条ほうじやう、東北の伊達だてなどが有名だ。
- (イ) 大村純忠おおむらすみただ、有馬晴信ありまはるのぶ、大友宗麟おおともそうりんは4人の少年使節をマカオに派遣した。
- (ウ) 織田信長おだのぶながと徳川家康とくがわいえやすの連合軍が、馬防柵ばぼうさくと大量の鉄砲隊てっぽうで武田の騎馬部きば隊を破ったのは、長篠ながしのの戦いであった。
- (エ) 織田信長の部下だった豊臣秀吉とよとみひでよしが、各地の大名の力や仏教勢力をおさえ、天下統一をなしとげた。

問7 下線部⑦について、適当でないものを下の(ア)～(エ)から1つ選びなさい。

- (ア) 大名は毎年、徳川家康とくがわいえやすをまつる日光東照宮にっこうとうしやうぐうに参拝し、家がらにさんばい応じて寄付すること。
- (イ) 参勤交代さんきんこうたいの人数は、大名ごとに決め、あまり多くしすぎてもいけない。
- (ウ) 自分の領地の城を修理する場合、必ず幕府に届け出ること。
- (エ) 将軍の許可なしに勝手に大名の家どうしで結婚けっこんしてはいけない。


問8 下線部⑧について、欧米に追いつくためには、幕末の日本がアメリカと結んだ日米□□□□条約など不平等条約の改正が必要でした。□□□□にあてはまる語句を漢字4字で答えなさい。

問9 下線部⑨について正しいものを、下の(ア)～(エ)から1つ選びなさい。

- (ア) 全国の自由民権運動の活動家が、議論してつくった私擬憲法案がもとになっている。
- (イ) 伊藤博文が、人民の権力が強いフランスの憲法を学んでその原案をつくりあげた。
- (ウ) 主権は天皇にあり、軍隊をひきいて戦争をしたり、ほかの国と条約を結んだり、さまざまな事がらが天皇の権限とされた。
- (エ) この憲法に書いてあるのは義務ばかりで、国民の自由はきびしく制限され、権利の保障はまったくなかった。

3 2021年10月31日に、衆議院議員選挙がおこなわれました。選挙は私たちの暮らしに大きな影響をあたえるものです。選挙や政治について、あとの問いに答えなさい。

問1 次のグラフは、日本の衆議院議員選挙において、選挙権をもっている人の数の推移を示したものです。このグラフを見ると1946年に実施された衆議院議員選挙では選挙権をもっている人の数が、急増していることがわかります。この年に、選挙権をもっている人が増えた理由を答えなさい。



問2 衆議院議員選挙について、あとの問いに答えなさい。

- (1) 投票率を上げるためのくふうとして実際におこなわれているものを、次の(ア)～(エ)から1つ選びなさい。
- (ア) 投票は国民の義務であるため、選挙に行かないと罰金^{ばっきん}をとられる。
 - (イ) 投票所に行かなくても自宅からインターネットで投票できる。
 - (ウ) 投票日に選挙へ行けなくても、決められた場所に行けば、事前に投票できる。
 - (エ) 投票所は投票日の午前0時から24時間開かれており、深夜まで投票できる。
- (2) 近年の国会では、自民党が単独で多くの議席をしめています。一つの政党が強すぎるのは民主主義にとってよくないという考えがあります。そのように考えたいいくつかの政党が、今回の選挙で「共闘^{きょうとう}」をおこなっていました。共闘とは「ともにたたかう」という意味です。に当てはまる語句を漢字2字で答えなさい。

- (3) この選挙の投票所では「小選挙区制」の投票用紙、「比例代表制」の投票用紙、そして「国民審査」の投票用紙がわたされました。「国民審査」の内容を説明しなさい。

問3 国会について、あとの問いに答えなさい。

- (1) 国会の仕事として正しいものを、次の(ア)～(エ)から1つ選びなさい。
- (ア) 国の予算を話し合っ、決める。
 - (イ) 条例をつくったり、変えたりする。
 - (ウ) 県知事や県議会議員をやめさせる請求をする。
 - (エ) 天皇の国事行為に対して、助言と承認をおこなう。
- (2) 国会は衆議院と参議院の2つの議院から成り立っています。衆議院と参議院について述べた文として正しいものを、次の(ア)～(エ)から1つ選びなさい。
- (ア) 衆議院は任期が6年であり、参議院は任期が4年である。
 - (イ) 参議院は、解散されることがある。
 - (ウ) 衆議院より参議院の方が、議員数が多い。
 - (エ) 内閣を信任しないことを決めるのは衆議院のみである。

問4 次の資料を見て、あとの問いに答えなさい。

【資料】



「中日新聞」2021年6月24日付

- (1) 資料中の裁判を起こした人たちは、夫婦別姓を認めないことは、日本国憲法が保証する「法の下での□□」や「男女の□□」に反すると主張しました。□□に当てはまる語句を漢字2字で答えなさい。

- (2) 最高裁判所は、「憲法の番人」とよばれています。このようによばれる理由を説明した文として最も適当なものを、次の(ア)～(エ)から1つ選びなさい。
- (ア) 地方裁判所や高等裁判所の判決が政府の方針にあっているかどうかを調べ、最終的な判断をおこなうから。
- (イ) 法律などが憲法に違反していないかどうかを調べ、最終的な判断をおこなうから。
- (ウ) 憲法が時代にあっているかどうかを調べ、憲法を変える必要性についての最終的な判断をおこなうから。
- (エ) 政府が決めたことに国民が従っているかどうかを調べ、最終的な判断をおこなうから。

問5 右の資料は、ある省庁が 【資料】

インターネットに投稿したよびかけです。このよびかけは、新型コロナウイルス感染症の拡大によって、生活に困っている人が増えていることからおこなわれています。

[生活保護を申請したい方へ]
[生活保護の申請は国民の権利です。]

生活保護を必要とする可能性はどなたにもあるものですので、ためらわずにご相談ください。相談先は、お住まいの自治体の福祉事務所までご連絡をお願いします。

資料中の「生活保護」とはお金や住むところがないなど、経済的に苦しんでいる国民に対して、国や自治体が給付をおこなう制度のことです。この資料に関して、あとの問いに答えなさい。

- (1) この投稿をした省庁は、国民の健康などに関する仕事をおもにおこなっています。この省庁を、次の(ア)～(エ)から1つ選びなさい。
- (ア) 環境省 (イ) 総務省 (ウ) 厚生労働省 (エ) 経済産業省
- (2) この制度は憲法にうたわれた (A) で (B) 的な生活を送る権利を守るためのものです。(A) と (B) に当てはまる語句をそれぞれ漢字2字で答えなさい。

問6 ある弁護士さんが、政治について次のように述べています。

に当てはまる文として最も適切なものを、下の(ア)～(エ)から1つ選びなさい。

政治はあくまでも、国民の人権を守るために存在するのです。そして民主主義は、選挙によって代表者を選んだ後からが本番です。

伊藤真『中学生のための憲法教室』岩波ジュニア新書（2009）により作成。

- (ア) 国民は、自分が投票した候補者が落選してしまったら、当選した候補者に協力して、従わなければなりません。
- (イ) 国会議員がしっかりと仕事をしているかどうか、国民は監視し続けなければなりません。
- (ウ) 国会で少数派となった政党は、自分たちの意見にこだわらずに、多数派の政党に協力することが重要です。
- (エ) 国会で多数派となった政党は、できるだけ議論の時間を短くし、法律を次々と成立させることが重要です。

4 2022年に起こったことを振り返る各問いの文章の（ ）にあてはまる語句（人名、名称、数字など）を答えなさい。

問1 10月5日（ ）プラスが原油価格の下落傾向のための措置として、11月以降の原油の生産量を大幅に減らすことを決めました。（ ）プラスとは、（ ）（石油輸出国機構）加盟国と、ロシアなど（ ）非加盟国の石油産油国10か国による枠組み。

問2 11月17日 日本の岸田文雄首相と中国の（ ）国家主席が訪問先のタイで3年ぶりの日中首脳会談を行いました。ウクライナ情勢や関係改善に向けた話し合いが行われました。

問3 11月20日に4年に1度の祭典であるサッカーW杯が開幕しました。22回目のW杯は初の中東開催となり、開催国は（ ）でした。初の冬季開催となり、12月18日までの全64試合の日程で行われました。

下書用紙

