

2022年度

札幌日本大学中学校
入学選抜試験
【B日程(1月9日)】

社 会

試験時間 40分

1. 指示があるまで、問題冊子さっしを開いてはいけません。
2. 答えは、解答用紙に記入してください。問題は、**1**～**6**まであります。
3. 試験監督かんとくの先生の指示に従って、試験を開始してください。
4. 試験の途中で、トイレに行きたくなったり、気分が悪くなったりした場合は、手をあげて試験監督の先生の指示を受けてください。
5. 試験開始の指示があつてから、解答用紙に「受験番号」「氏名」を記入してください。
6. 解答用紙には、解答以外を記入しないでください。
7. 試験が早く終わっても、周囲を見回したり、横を向いたりしてはいけません。試験監督の先生から注意を受けることがあります。
8. 机の上には、筆記用具以外は置いてはいけません。風邪かぜなどにより、ティッシュペーパーを使用したい場合は、予め試験監督の先生に申し出てください。

1 本校では毎年夏、オーストラリアへの語学研修を実施しています。オーストラリアについてあとの問いに答えなさい。

問1 オーストラリアの面積は約769万km²です。日本の約何倍の面積になりますか。最も近いものを、次の(ア)~(エ)から1つ選び、記号で答えなさい。

(ア) 約7倍 (イ) 約20倍 (ウ) 約33倍 (エ) 約45倍

問2 次の表は、日本のある原材料の輸入先と、その割合（2019年）をあらわしています。この原材料は何ですか。次の(ア)~(エ)から1つ選び、記号で答えなさい。

1位	オーストラリア (51.6%)
2位	ブラジル (28.2%)
3位	カナダ (7.7%)
4位	その他 (12.5%)

(『データブック オブ ザ ワールド2021』より)

(ア) 鉄鉱石 (イ) 石炭 (ウ) 木材 (エ) 羊毛

問3 オーストラリアへ向かう途中、生徒はシンガポールで飛行機を乗り換えます。シンガポールについて述べた文として正しくないものを、次の(ア)~(エ)から1つ選び、記号で答えなさい。

(ア) イギリスのアジア貿易の寄港地として発展してきた。

(イ) アジアNIESの一国に含まれる。

(ウ) 華僑とよばれるインド系住民の割合が多い。

(エ) 国際空港のあるシンガポール島は、赤道より北に位置している。

問4 日本はオーストラリアをはじめ、多くの国々から食品を輸入しています。外国からの食品輸入が増えている理由として正しくないものを、次の(ア)~(エ)から1つ選び、記号で答えなさい。

(ア) 外国の農産物は国内産と比べ、安いものが多いから。

(イ) 国内米の増産が続いており、一緒に食べる食材の需要も増えているから。

(ウ) 小麦などのように、外国産の方が質の良い場合があるから。

(エ) 輸送技術が発達し、より新鮮なまま食品を輸入できるようになってきたから。

問5 日本とオーストラリアがともに加わっている会議（組織）はどれですか。
次の(ア)～(エ)から1つ選び、記号で答えなさい。

(ア) ASEAN (イ) APEC (ウ) OPEC (エ) NAFTA

2 日本と諸外国との対外関係についての文章を読み、あとの問いに答えなさい。

アメリカの東インド艦隊司令長官ペリーは、4隻の軍艦を従え、嘉永6年(1853)6月3日浦賀沖に現れ、幕府との交渉を求めました。幕府の長崎回航要求を拒み、防衛ラインである富津と観音崎を結ぶラインの内側まで乗り入れるなどの行動に出ました。やむなく、久里浜で開国を求める大統領国書を受け取り、翌年の再来航時に回答することを約束しました。

翌年1月16日、軍艦7隻で再来航したペリーと神奈川で開国交渉を行い、3月3日①条約を結びました。突然の来航で人々は驚きましたが、幕府首脳は②風説書などで来航が近いことを知っていたようです。

このあと結んだ条約は日本にとって不平等なものであり、明治に入り近代化を目指す日本にとっては、条約の改正が急務でした。1872年の岩倉使節団による交渉に始まり、日本は欧米諸国との不平等条約改正につとめてきました。欧米諸国は条約の改正に消極的でしたが、大日本帝国憲法の発布や、帝国議会の設置などで近代国家としての地位を認められてきました。③青木周蔵の交渉によりイギリスが改正案に合意、1894年には領事裁判権の撤廃に成功し、その後、1911年には関税自主権も完全に回復しました。

ちょうどこの頃、中国では(A)を指導者として辛亥革命がおり、清が滅び中華民国が成立しました。日本は中国に対して、第一次世界大戦中の1915年に二十一か条の要求を出して満州へ進出し、中国への影響力を強めました。しかし、この要求のうち、山東半島の旧ドイツ権益については、1922年(B)が結ばれ、中国に返還しました。

アメリカやヨーロッパの強国は、こうした日本の対外政策に警戒を強めました。日本は満州への進出の後、日中全面戦争に至り、ヨーロッパで勃発した世界大戦の流れを受け、幕末の黒船騒動から100年を経たずして、1941年12月8日、日本軍がアメリカ海軍基地を攻撃し④アジア・太平洋戦争が始まりました。

問1 文章中の(A)・(B)に入る語句の組み合わせとして正しいものを、次の(ア)~(エ)から1つ選び、記号で答えなさい。

- (ア) A 孫文 B 九カ国条約 (イ) A 段祺瑞 B 四カ国条約
 (ウ) A 孫文 B 海軍軍縮条約 (エ) A 段祺瑞 B 不戦条約

問2 下線部①について、この条約名を答えなさい。またその史料を次の(ア)~(エ)から1つ選び、記号で答えなさい。出題の都合上、史料を一部改変しました。

(ア) 第三条 締約国は、個別的に及び相互に協力して、継続的かつ効果的な自助及び相互援助により、武力攻撃に抵抗するそれぞれの能力を、憲法上の規定に従うことを条件として、維持発展させる。
 第四条 締約国は、この条約の実施に関して随時協議し、また、日本の安全又は極東における国際の平和及び安全に対する脅威が生じたときはいつでも、いずれか一方の締約国の要請により協議する。

(イ) 第一カ条 一日本と合衆国とは、其人民永世不朽の和親を取り結び、場所・人柄の差別之無き事。
 第二カ条 一伊豆下田・松前地箱館の両港は、日本政府に於て、亜墨利加船薪水・食料・石炭欠乏の品を、日本にて調ひ候 丈は給し候ため、渡来の儀差し免し候。

(ウ) 第一条 この後、大日本国と大清国は 弥和誼を敦くし、天地と共に窮まり無るべし。又両国に属したる邦土も 各礼を以て相待ち、聊 侵越する事なく、永久安全を得せしむべし。
 第二条 両国好みを通せし上は必ず相関切す。もし他国より不公及輕藐する事有る時其知らせを為さば、いずれも相助けあるいは中に入り、程よく取扱い友誼を敦くすべし。

(エ) 第一条 向後日本大君(將軍)と、亞墨利加合衆国と、世々親睦なるべし。……
 第三条 下田・箱館港の外、次にいう所の場所を、左の期限より開くべし。
 神奈川… 西洋紀元千八百五十九年七月四日 長崎 … 同断
 新潟 … 千八百六十年一月一日 兵庫 … 千八百六十三年一月一日
 もし新潟港を開き難き事あらは、其代わりとして同所前後に於て、一港を別に撰ふべし。
 神奈川港を開く後六箇月にして下田港は鎖すべし。……

問3 下線部②について、この風説書は、対外政策中の幕府がヨーロッパの動向を知るために、ある国に提出させていたものです。ある国とはどこですか。カタカナで答えなさい。

問4 下線部③について、条約改正に消極的だったイギリスはなぜ合意したのですか。その理由として正しいものを、次の(ア)～(エ)から1つ選び、記号で答えなさい。

- (ア) 日本が日清・日露戦争に勝利し、欧米諸国と対等な軍事力を保持していることがわかったため。
- (イ) イギリス人を被告とする裁判では、すべてイギリス人判事を登用することを認めたため。
- (ウ) ロシアの南下を警戒し、対ロシアの利害関係が共通する日本と協力しようと考えたため。
- (エ) 日本が産業革命の成功により、欧米諸国と対等な国力となったため。

問5 下線部④について、この戦争のあと、日本の民主化と非軍事化のため、アメリカは日本政府に対して様々な政策要求を行いました。その要求として正しくないものを、次の(ア)～(エ)から1つ選び、記号で答えなさい。

- (ア) 教育勅語に代わり教育基本法を制定すること。
- (イ) 戦争遂行の経済基盤となった財閥を解体すること。
- (ウ) 労働組合の結成を奨励すること。
- (エ) 日米安全保障条約を締結すること。

3 日本の内陸にある、次の①～⑧の都道府県について、あとの問いに答えなさい。

- ①^{とちぎ}栃木県 ②群馬県 ③^{さいたま}埼玉県 ④^{やまなし}山梨県
 ⑤長野県 ⑥^{ぎふ}岐阜県 ⑦^{しが}滋賀県 ⑧()

問1 ①②④⑤⑥⑦の中で、県庁所在地が県名となっている県はいくつありますか。算用数字で答えなさい。

問2 次の表は、全国の各工業地域の出荷額の上位3位までと出荷額全体に対するその割合、および出荷額の総合計金額（2016年）をあらわしています。①②③の3県にまたがっている工業地域をあらわしたものはどれですか。正しいものを次の(ア)～(エ)から1つ選び、記号で答えなさい。

	1位	2位	3位	出荷額合計(億円)
(ア)	機械 (36.8%)	化学 (20.6%)	金属 (17.3%)	290,989
(イ)	機械 (46.4%)	食料品 (15.5%)	金属 (11.1%)	306,520
(ウ)	機械 (50.6%)	食料品 (14.5%)	化学 (10.8%)	162,569
(エ)	化学 (38.6%)	金属 (20.3%)	食料品 (16.9%)	114,664

(『日本のすがた2017』より)


問3 次の表はある農産物を生産量（2015年）の多い順に上位3県まであらわしたものです。正しいものを次の(ア)～(エ)から1つ選び、記号で答えなさい。なお、表中の数字は①～⑦の各県をあらわしています。

	(あ)	(い)	(う)	(え)
1位	青森	④	①	④
2位	⑤	⑤	^{ふくおか} 福岡	福島
3位	山形	山形	熊本	⑤

(『日本のすがた2017』より)

- (ア) (あ)りんご (い)ぶどう (う)いちご (え)もも
 (イ) (あ)ぶどう (い)いちご (う)もも (え)りんご
 (ウ) (あ)いちご (い)もも (う)りんご (え)ぶどう
 (エ) (あ)もも (い)りんご (う)ぶどう (え)いちご

問4 右の県章は①～⑦のどの県のものでしょうか。1つ選び、番号で答えなさい。



問5 リニア中央新幹線（品川～名古屋間）は①～⑦の中のどの県を通る予定ですか。番号ですべて答えなさい。

問6 ①～⑦の各県の中で、他の都道府県と最も多く接している県はどれですか。番号で答えなさい。

問7 ①③⑤⑦の各県と、県内にある観光地の組み合わせとして正しいものを、次の(ア)～(エ)から1つ選び、記号で答えなさい。

(ア) ①－富岡製糸場 (イ) ③－野辺山高原

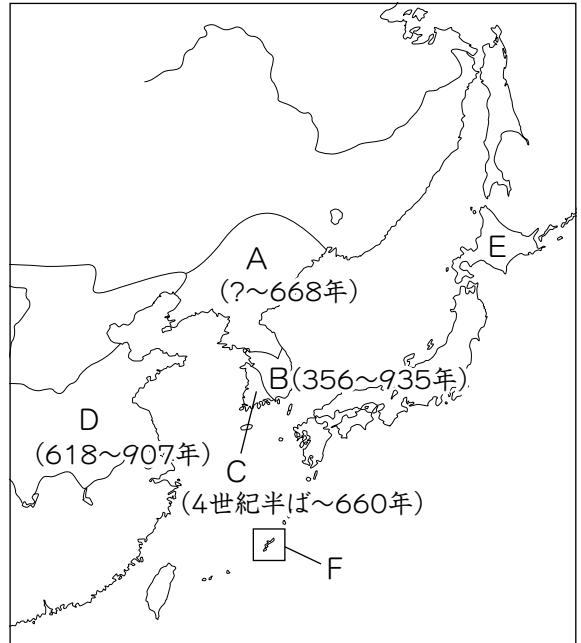
(ウ) ⑤－諏訪湖 (エ) ⑦－御嶽山

問8 ⑧の（ ）に入る内陸にある都道府県名を、「都道府県」までつけて、漢字で答えなさい。

問9 内陸にある県とは逆に、海岸線の距離が最も長い県を次の(ア)～(エ)から1つ記号で選び、長い海岸線をもつ理由を答えなさい。

(ア) 沖縄県 (イ) 鹿児島県 (ウ) 長崎県 (エ) 熊本県

4 右の東アジアの地図をみて、あとの問いに答えなさい。



問1 朝鮮半島から日本に移り住み、漢字や鉄製品などを伝えた人々を何といいますか。漢字で答えなさい。

問2 大陸から仏教がもたらされました。仏教に関して次の問いに答えなさい。

(1) 日本へ正式に仏教をもたらしたとされる国を、地図中のA～Cから1つ選び、記号で答えなさい。

(2) 日本の仏教に関する次の(ア)～(エ)のできごとを、古い順に記号で並べかえなさい。

- (ア) 蘇我氏の飛鳥寺をはじめとして、豪族らが寺院を建立した。
- (イ) 法然によって、念仏を唱えれば救われるとした浄土宗が開かれた。
- (ウ) 大仏造立の命令が出され、仏教による国の統一が目指された。
- (エ) 石山戦争が起こり、当時の権力者によって仏教勢力が弾圧された。

問3 地図中Aと当時の日本との戦いを記した史料名を、次の(ア)～(エ)から1つ選び、記号で答えなさい。

- (ア) 稲荷山古墳出土鉄剣銘文
- (イ) 『宋書』倭国伝
- (ウ) 好太王碑文
- (エ) 『日本書紀』

問4 地図中Bは7世紀頃、朝鮮半島を統一しました。Bの国名を漢字で答えなさい。

問5 7世紀半ばBがDと協力して、当時の日本と親しくしていたCを滅ぼしました。その戦いを何といいますか。次の(ア)～(エ)から1つ選び、記号で答えなさい。

- (ア) 磐井の乱
- (イ) 白村江の戦い
- (ウ) 壬申の乱
- (エ) 乙巳の変

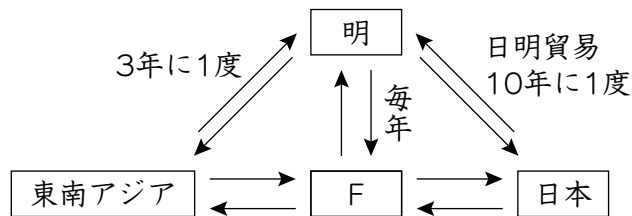
問6 地図中Dへ多くの使者が日本から派遣されました。「天の原 ふりさけ見れば 春日なる 三笠の山に いでし月かも」と歌を残しながらも日本に帰ることができなかつた人物を、次の(ア)～(エ)から1つ選び、記号で答えなさい。

- (ア) 犬上御田歙 (イ) 藤原清河 (ウ) 吉備真備 (エ) 阿倍仲麻呂

問7 地図中Eには古くから先住民族がくらしていました。江戸時代にその民族との貿易権を独占していた藩を、次の(ア)～(エ)から1つ選び、記号で答えなさい。

- (ア) 対馬藩 (イ) 薩摩藩 (ウ) 松前藩 (エ) 尾張藩

問8 地図中Fの国が貿易で栄えた背景には、ある国が倭寇対策として行っていた政策の影響がありました。次の図を参考にし、解答欄に合わせて、貿易名を明らかにしながら、その背景を説明しなさい。



問9 日本と東アジアの国々は、時代によって形式を変えながら貿易関係を結んできました。その関係性について述べた文として正しいものを、次のア～エから1つ選び、記号で答えなさい。

- (ア) 8世紀初め以後、Aとの関係が悪化した日本は、使いを派遣する際に危険な東シナ海を通る航路をとることとなった。
- (イ) 12世紀には伊豆の港を改修して、朝鮮半島の国と貿易を行い、銅銭が多く日本に入ってきた。
- (ウ) 14世紀頃から東アジア周辺を拠点に活動した倭寇を取り締まるために、朱印状を用いた貿易を行った。
- (エ) 16世紀頃から盛んになった南蛮貿易は、京都や堺などの商人も積極的に参加した。

5 次の文章を読んで、あとの問いに答えなさい。

日本は自然災害の多い国です。2021年も多くの地域で自然災害が発生しました。

2018年9月6日に発生した、北海道（ A ）地方中東部を震源とした地震は、北海道で初めて震度7を観測し、大きな被害をもたらしました。

①気象庁は、緊急地震速報を地震波検知の7.3秒後の3時8分12.6秒に北海道同地方と、日高、石狩、空知地方に発表しました。離島を除く北海道のほぼ全域にあたる295万戸で停電となったり、土砂崩れや液状化現象など被害が拡大しました。②知事は自衛隊に災害派遣^{はけん ようせい}を要請しました。また、被害の大きかった市町村に③法律を適用して、必要な救助を行うことを決定しました。

日本は過去にも多くの自然災害が発生し、大きな被害を受けました。また、その復興には多くの④予算と時間がかかります。2011年の東日本大震災^{だいしんさい}では国や地方公共団体が協力し、復旧・復興を円滑に、迅速^{えんかつ じんそく}に進めるため、東日本大震災復興基本法を成立させ、復興資金の確保や復興特区制度の整備、早期に復興庁の設置を行うことを決定しました。平成25年からは⑤復興特別所得税が創設され、必要な財源が確保されることになりました。

問1 文章中の（ A ）にあてはまる北海道の地方名を漢字2字で答えなさい。

問2 下線部①について、気象庁は内閣のどの省に属していますか。次の(ア)～(エ)から1つ選び、記号で答えなさい。

(ア) 経済産業省 (イ) 外務省 (ウ) 厚生労働省 (エ) 国土交通省

問3 下線部②について、都道府県知事に立候補^{ねんれい}できる年齢^{さい}は満何歳以上ですか。算用数字で答えなさい。

問4 下線部③について、災害発生後、都道府県や市町村、日本赤十字社などの団体、国民の協力のもとに国が応急的に必要な救助活動^{ひさい}を行い、被災者の保護^{ちっじょ}や社会秩序の保全を行う法律名を、漢字で答えなさい。

問5 下線部④について、国の一般会計歳出のなかで最も多くの割合を占めるものを、次の(ア)～(エ)から1つ選び、記号で答えなさい。

(ア) 公共事業費 (イ) 社会保障関係費 (ウ) 防衛関係費 (エ) 国債費

問6 下線部⑤について、復興特別所得税は国税ですが、地方税にあたるものは次の(ア)～(エ)のうちどれですか。1つ選び、記号で答えなさい。

(ア) 固定資産税 (イ) 酒税 (ウ) 相続税 (エ) 関税

6 次の問1～4は2021年の出来事です。()に入る言葉や人物名を答えなさい。

問1 東京オリンピックの開会式で、何らかの情報や注意を示すための視覚記号「(①)」をパントマイムで表現するパフォーマンスが行われました。これは前回の東京オリンピック(1964年)で考案・開発されたものです。

問2 イギリスの新しい首相に(②)氏が就任しました。EU離脱問題に強気の姿勢を貫き「10月末までにブレグジットを遂行する」としました。

問3 アメリカのジョー・バイデン大統領が(③)戦争の終結を宣言しました。2001年に始まり20年続いた「アメリカ史上最も長い戦争」の終結を宣言し、アメリカ軍は8月31日までに完全撤退しました。

問4 マイナンバーカードを健康保険証として使用することができる「(④)保険証」の運用が始まりました。利用には事前登録が必要となります。医療のデジタル化につながるものとして期待されています。

下書用紙

