

2021年度

札幌日本大学中学校
入学選抜試験
【B日程(1月9日)】

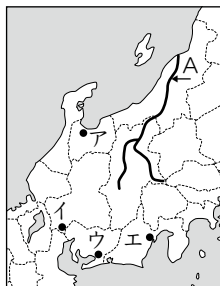
社 会

試験時間 40分

1. 指示があるまで、問題冊子さっしを開いてはいけません。
2. 答えは、解答用紙に記入してください。問題は、**1**～**4**まであります。
3. 試験監督かんとくの先生の指示に従って、試験を開始してください。
4. 試験の途中で、トイレに行きたくなったり、気分が悪くなったりした場合は、手をあげて試験監督の先生の指示を受けてください。
5. 試験開始の指示があってから、解答用紙に「受験番号」「氏名」を記入してください。
6. 解答用紙には、解答以外を記入しないでください。
7. 試験が早く終わっても、周囲を見回したり、横を向いたりしてはいけません。試験監督の先生から注意を受けることがあります。
8. 机の上には、筆記用具以外は置いてはいけません。風邪かぜなどにより、ティッシュペーパーを使用したい場合は、予め試験監督の先生に申し出てくださ
い。

1 次の資料Ⅰ～Ⅴを見て、下の問に答えなさい。

資料Ⅰ



資料Ⅱ



資料Ⅲ

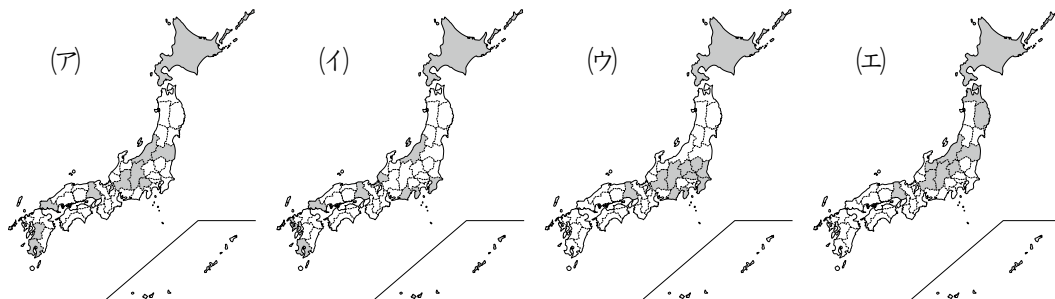


資料Ⅳ 果物の主産地

	ぶどう	もも	りんご
1位	ア	ア	青森
2位	イ	福島	イ
3位	山形	イ	山形
4位	岡山	和歌山	岩手
5位	福岡	山形	福島

(日本国勢図会2018/19より)
順位は生産量(t)によるもの

資料Ⅴ



問1 資料Ⅰ中の河川Aの名前を書きなさい。

問2 資料Ⅱ中の北陸に多くの雪を降らせる冬の季節風は、日本から見てどの方角からふいてくるのか、八方位を用いて答えなさい。

問3 資料Ⅱの中央高地では、内陸の気候の特色がみられます。内陸の気候の特色を、「降水量」、「気温」の語句を必ず使って説明しなさい。

問4 資料Ⅲの写真が撮影された場所を、資料Ⅰ中のア～エから1つ選び、記号で答えなさい。

問5 資料Ⅲの地域について説明した次の文章中の(A)と(B)に適する語句を答えなさい。なお、(B)には共通の語句が入ります。

家や農地を水害から守るために村の外側を高い堤防^{ていぼう}で囲む(A)は、江戸時代に薩摩^{さつま}(今の鹿児島県)の武士と農民が力をあわせてつくりました。明治時代以降も大規模な(B)工事がおこなわれ、水害の数は大きく減りました。

川の流れや水路などを改良して水害を防ぎ、水をくらしや産業に利用できるようにすることを(B)といいます。

問6 資料Ⅳ中のアとイにあてはまる中部地方の県の名前を、答えなさい。

問7 資料Ⅴは、スキー場、キャンプ場、海水浴場、ゴルフ場のいずれかの数が多い上位1～10位までの都道府県を示しています。スキー場にあてはまるものを資料Ⅴ中のア～エから1つ選び、記号で答えなさい。

2 次の文章は新聞記事の一部である。これを読んで、下の問に答えなさい。

アゼルバイジャンで開催中の国連教育科学文化機関(ユネスコ)第43回世界遺産委員会は6日、日本最大の(①)墳「仁徳天皇陵古墳」(大山古墳、堺市)を含む全49基で構成する大阪府南部の「百舌鳥・古市古墳群」を世界文化遺産に登録すると決めた。天皇や皇族が葬られたとして宮内庁が管理する「陵墓」の登録は初めて。大阪府初の世界遺産で、観光振興にも弾みがつきそうだ。

国内の世界遺産は、23件目で、登録決定は7年連続。内訳は文化遺産が19件、自然遺産が4件となる。

古墳群は、古墳時代最盛期の4世紀後半～5世紀後半、政治の中心の一つだった大阪平野に築造された。

次の会話文は、新聞記事を読んだ感想を述べたものです。

太郎：今回の登録で日本の世界遺産は19件目だってね。

花子：そうだね。ちなみに、日本で最初に世界文化遺産に登録されたのは何なの？

太郎：日本で最初に登録された世界文化遺産は、1993年12月に登録された、法隆寺地域の仏教建造物と近畿地方にある姫路城だよ。どちらも解体修理の手法で現在に伝えられた建造物なんだ。

花子：2018年の「長崎と天草地方の潜伏キリシタン関連遺産」に続いて7年連続の世界文化遺産への登録は、うれしいことだね。

太郎：世界文化遺産になるということは、人類の宝になったわけなので、私たちも次の世代の人たちに伝えていかないといけないね。

問1 写真Iは世界文化遺産に登録されている慈照寺にある建物の内部です。住宅の中で客をもてなすための専用の部屋のつくりとして発達し、現在の和室につながったこのつくりを何と
いうか答えなさい。



提供：慈照寺

写真I (慈照寺東求堂同仁齋)

問2 新聞記事の中の (①) に入る語句を答えなさい。

問3 次の写真IIのように、石をしきつめた古墳の上に並べられたものを何と
いうか答えなさい。



写真II

問4 会話文中の波線部がある九州地方について述べた次の文章を読んで問に
答えなさい。

日本の西部に位置する九州地方の気候は、比較的温暖ですが台風の通り道となることが多いので降水量は多いです。北部には比較的なだらかな (①) 山地があり、中央部には高く険しい九州山地があります。九州山地を代表する山として阿蘇山がありますが、阿蘇山は火山活動が活発なこととともに、世界最大規模の (②) があることでも有名です。

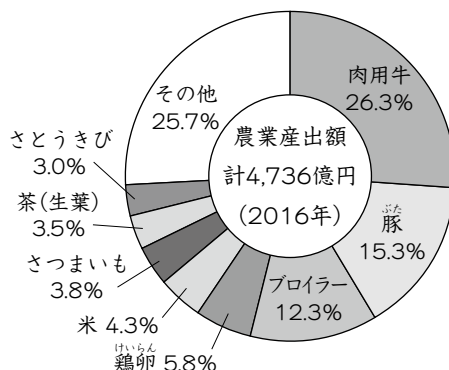
a九州地方の農業の特徴は、熊本平野や八代平野で行われている b二毛作 や、宮崎平野で行われている促成栽培が挙げられます。

また、工業の特徴として明治時代の (③) 戦争の後に、官営の (④) が作られたことで北九州工業地帯の基礎がぎざかれました。ここに (④) が作られたのは、原料となる鉄鉱石の輸入先である中国に近かったことと、周辺に (⑤) が産出されていたことが原因です。

(1) 文章中の (①) ~ (⑤) に当てはまる語句を答えなさい。

(2) 下線部aについて、右のグラフが示している都道府県を、(ア)~(エ)から選びなさい。

- (ア) 佐賀県
- (イ) 福岡県
- (ウ) 大分県
- (エ) 鹿児島県



(3) 下線部bを説明しなさい。

3 日本の歴史の大きな転換点^{てんかんでん}となるできごとを、4枚のカードにまとめてみた。カードを見て、下の問に答えなさい。

A 【 】
とよとみひでよし
 豊臣秀吉の死後、多くの大名を味方につけ、自分に反対する大名たちを破って全国支配を確実にしました。

B 【 】
ちょうてい
 朝廷は幕府をたおす命令を全国にだしましたが、結集した武士たちは朝廷を打ち破りました。

C 【 】
ちょうせん
 朝鮮をめぐる日本とロシアの対立が深まっていき、大きな戦争となりましたが、日本は何とか勝利しました。

D 【 】
そが
 蘇我氏をたおし、中国で学んできた留学生とともに、天皇を中心とする新しい国づくりをはじめました。

問1 A～Dのカードの【 】にあてはまるできごとをそれぞれ何と
 いうか答えなさい。

問2 A～Dのカードの時代に関係するものを、次の(ア)～(エ)から1つずつ選び、記号で答えなさい。

(ア)



(イ)



(ウ)



(エ)



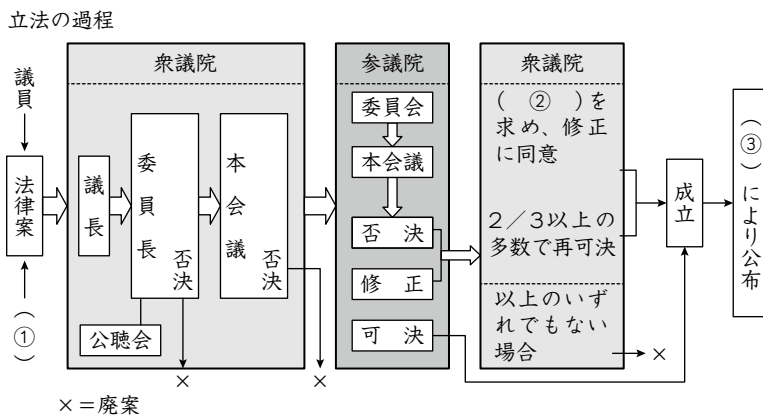
問3 A～Dのカードを古い順番にならべかえなさい。

問4 A～Dのカード以外にもう1枚作るとしたら、あなたはどのできごとを取り上げますか。あなたが考えるカードを1枚作りなさい。

4 次の文章を読み、下の問に答えなさい。

2007年5月、日本国憲法を改正するために必要な国民投票に関する③法律が成立し、2010年5月に施行された。この法律の最大の特徴は投票できる年齢を18歳に定めたところにある。当時の国政や地方の政治の⑥選挙に関する法律に定められていた投票権は20歳であったため、2015年6月に、この法律も国民投票法に合わせる形で、④選挙年齢を18歳に引き下げる改正がなされた。また、2018年6月には民法の成人年齢を18歳に定める改定が成立し、②2022年の4月1日から施行されることとなっている。これらは、日本の若者に早く、社会参加をしてもらいたいと狙いがあるものの、⑤お酒やタバコなどは、身体や健康の問題から18歳の引き下げには応じられないという【 】省の見解から、従来通り20歳の規定を残すものもあり、議論は尽きない。

問1 下線部③について、法律が成立するまでの流れ（衆議院先議の場合）を示した下の図の空欄（①）～（③）に適語を入れなさい。



問2 下線部⑥について下の問に答えなさい。

- ① 性別・財産などによる差別がなく、一定の年齢に達した者に選挙権が与えられる制度を何というか答えなさい。
- ② 次の文の中から正しくないものを1つ選び、記号で答えなさい。
 - (ア) 1人につき1票の平等選挙で行われる。
 - (イ) 無記名で投票する。
 - (ウ) 投票を棄権する場合は事前に届けを出さなければならない。

問3 下線部㉓について、立候補するにも年齢制限があるが、その制限について正しくないものを次から1つ選び、記号で答えなさい。

- (ア) 参議院議員に立候補できるのは30歳以上である。
- (イ) 都道府県知事に立候補できるのは30歳以上からである。
- (ウ) 都道府県議会議員に立候補できるのは25歳以上からである。
- (エ) 市町村長に立候補できるのは20歳以上からである。

問4 下線部㉔について、2022年4月より、18歳になったらできることについて述べた次の(ア)～(ウ)から正しいものを1つ選び、記号で答えなさい。

- (ア) 18歳になったら携帯電話の契約やクレジットカードの作成が、親の同意がなくてもできる。
- (イ) 女性の結婚年齢は、今までも16歳以上だったので、これからも16歳になれば結婚できる。
- (ウ) 18歳になれば、競馬や競輪などの投票券を購入することができる。

問5 下線部㉕について、文章中の【 】内に当てはまる、国民の健康や生活を管轄する省庁名を漢字で答えなさい。

問6 憲法がもつ役割にふれ、憲法改正に国民投票を必要とする理由を述べなさい。

下書用紙

