

2021年度

札幌日本大学中学校

入学選抜試験

【A日程(1月7日)】

社 会

試験時間 40分

1. 指示があるまで、問題冊子さっしを開いてはいけません。
2. 答えは、解答用紙に記入してください。問題は、**1**～**4**まであります。
3. 試験監督かんとくの先生の指示に従って、試験を開始してください。
4. 試験の途中で、トイレに行きたくなったり、気分が悪くなったりした場合は、手をあげて試験監督の先生の指示を受けてください。
5. 試験開始の指示があってから、解答用紙に「受験番号」「氏名」を記入してください。
6. 解答用紙には、解答以外を記入しないでください。
7. 試験が早く終わっても、周囲を見回したり、横を向いたりしてはいけません。試験監督の先生から注意を受けることがあります。
8. 机の上には、筆記用具以外は置いてはいけません。風邪かぜなどにより、ティッシュペーパーを使用したい場合は、予め試験監督の先生に申し出てくださ
い。

1 次のA～Dの文章を読んで、下の問に答えなさい。

- A 平治の乱に敗れて、①伊豆に流されていた源頼朝は、伊豆の豪族(1)氏や東国の武士たちとともに平氏をたおそうと兵をあげました。源氏は平氏との戦いに次々と勝ち、ついに②壇ノ浦で滅ぼしました。
- B ドイツの憲法を学んだ(2)は、日本の初代内閣総理大臣となり、帝国議会(国会)の開設を目指しました。帝国議会は、天皇中心であり、貴族院と衆議院から成り立っていました。
- C 徳川家は、大名を③三つに分けて工夫して配置しました。そして、武家諸法度という決まりをつくり、領地と江戸の行き来をさせる(3)を制度として定めました。
- D 藤原京の後、奈良に新しい都である(4)がつくられ、大いに栄えました。しかし、地方の人々の生活は厳しく、④いねのとれ高のおよそ3%を納める税などの負担にたえかねて、逃げ出す者もいました。

問1 文中の(1)～(4)に入る語句を答えなさい。

問2 A～Dを古い順にならべかえなさい。


問3 下線部①と②について、現在の県名の組み合わせとして正しいものを次の中から1つ選び、記号で答えなさい。

- (ア) ① 静岡県 ② 山口県 (イ) ① 静岡県 ② 兵庫県
(ウ) ① 神奈川県 ② 山口県 (エ) ① 神奈川県 ② 兵庫県

問4 下線部③について、外様大名はどのようなところに配置されたかを、説明しなさい。

問5 下線部④について、この税を何というか、答えなさい。

問6 Dの文章と一番関係が深いものを、次の写真の中から1つ選び、記号で答えなさい。



2 次の文章は新聞記事の一部である。これを読んで、下の問に答えなさい。

2020年の東京五輪は、新型コロナウイルスの世界的広がりをを受けて、1年の延期が決定した。聖火リレーや競技の日程、パラリンピックを含めた大会マスコットの名前などが相次いで発表され、メインスタジアムとなる新国立競技場の工事も完成した状況であった。

聖火リレーは（ 1 ）からの復興を目指す福島県を起点に、日本列島をほぼ時計回りで一巡する。競技は開会式2日前の7月22日にやはり福島県で行われるソフトボールの日本戦を皮切りに、33競技、339種目のスケジュールが決まっていた。今後は延期後のボランティア募集や運営面での計画づくりが本格化する。万全の準備でその日を迎えたい。

問1 文中の（ 1 ）に入る語句を答えなさい。

問2 オリンピックは「平和の祭典」とも呼ばれるが、1964年の東京オリンピック後の1972年に、日本と国交が正常化した国はどこであるか、答えなさい。

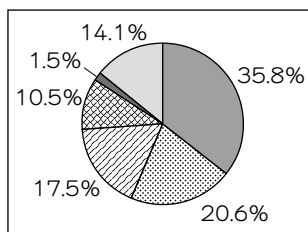
問3 1964年の東京オリンピック後の日本について説明した文章として誤っているものを次の中から1つ選び、記号で答えなさい。

- (ア) カラーテレビ・自動車・クーラーなどの家電が普及した。
- (イ) 各地で公害が発生し、公害反対運動が広がった。
- (ウ) 大阪で、日本万国博覧会が開かれた。
- (エ) 朝鮮戦争が始まり、警察予備隊がつくられた。

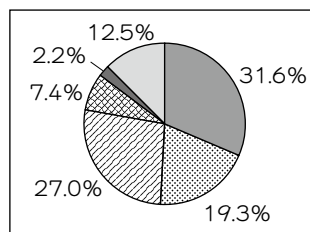
3 次の会話文を読んで、下の問に答えなさい。

太郎：1学期に①工業のことを学んだけど、夏休みに何の研究をしたの。
 花子：夏休みに自動車工場の見学に行ったよ。
 太郎：自動車工場に見学に行ってどうだった。
 花子：最初に驚いたのは、自動車に使われている部品のほとんどが関連工場で作られていることだったよ。自動車工場ではその組み立てだけを行うんだよ。
 太郎：そうなんだね。でも部品を違うところで作ると不便じゃないのかな。
 花子：だから関連工場は自動車工場の近くへ集まっていたよ。②むだなく生産ができるみたいだよ。
 太郎：自動車工場ではいろいろな工夫がされているのだね。工夫と言えば、これからの社会では、自動車も③環境にやさしくないといけないね。
 花子：そうだね。最近では地球環境にやさしい自動車が多く使われているようになってきているよ。
 太郎：例えばどのような自動車があるのかな。
 花子：いわゆるエコカーと呼ばれている自動車だよ。電気とガソリンを使って走る（ 1 ）カーが代表的だね。その他に最近では、水素と酸素から電気を作って走る燃料電池自動車や、太陽光で走る（ 2 ）カーの研究や開発も行われているよ。
 太郎：さらに、④資源を大切に使うために、自動車の（ 3 ）も進んでいるみたいだね。
 花子：そうだね。環境にやさしい自動車を開発するだけでなく、環境のことを考えた自動車生産を行うことも大切だね。

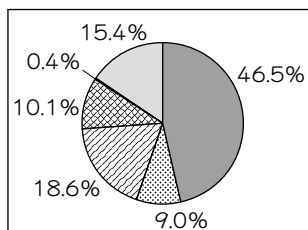
[資料 1] (ア)



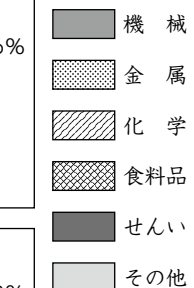
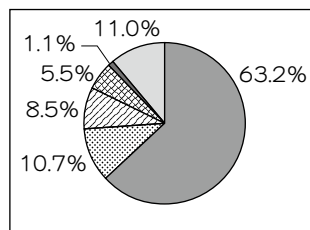
(イ)



(ウ)



(エ)



(2013年 工業統計調査)

問1 文中の(1)～(3)に入る語句を答えなさい。

問2 下線部①について、資料1は日本の工業地域・地帯別の工業生産の割合を示している。

- i) 日本の工業地域・地帯で最も生産額が多い工業地域・地帯はどこか答えなさい。
- ii) 資料1から i で答えた工業地域・地帯を示しているものを1つ選び、記号で答えなさい。

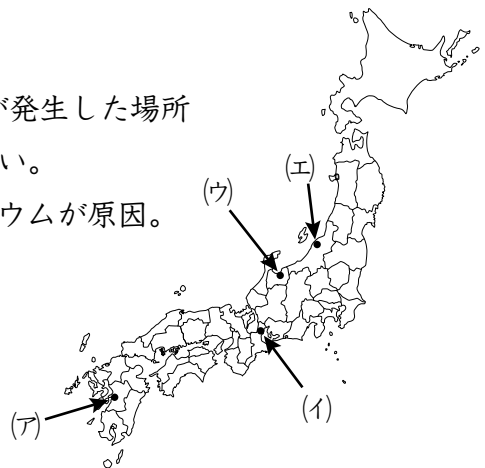
問3 下線部②について、「むだなく生産」できるとは、どのようなことか、説明しなさい。

問4 下線部③について、次の文章の公害が発生した場所

を地図中から1つ選び、記号で答えなさい。

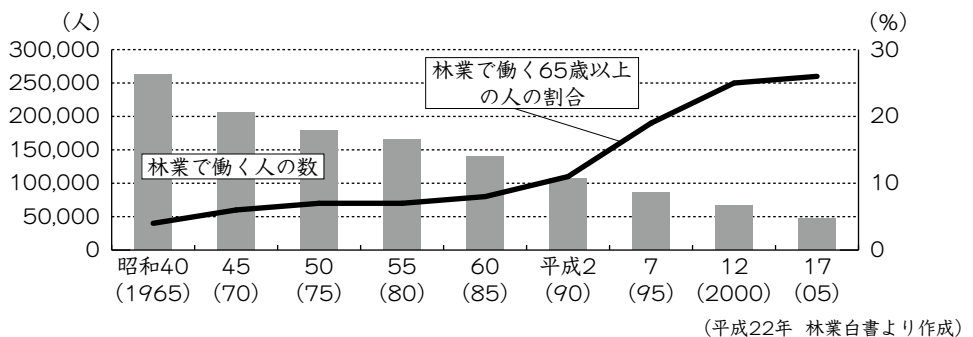
「神通川上流の^{じんづうがわ}鉦山^{こうざん}から出されたカドミウムが原因。

骨^{ほね}がもろくなり、とても苦しむ。」



問5 下線部④について、日本は豊かな森林に恵まれた国である。資料2は林業で働く人についての資料です。

- i) 森林がはたす役割を、木材供給以外で2つ答えなさい。
- ii) 資料2から、林業で働く人はどのように変化していることがわかるか、説明しなさい。



4 次の文章を読んで、下の問に答えなさい。

第二次世界大戦後の日本の民主化の中でもっとも大きなできごとは、それまでの大日本帝国憲法に代わって、新しく日本国憲法がつくられたことです。日本国憲法は、1946年の国会で長い時間をかけて慎重に話し合って決められ、その年の11月3日に公布され、翌年の(A)5月3日から施行されました。

この日本国憲法は、(B)①国の政治のあり方を決める力が国民にあること、②人間が生まれながらにしてもっているだいたいの権利をたいせつにすること、③戦争は永久にしないこと、の三つをだいたいの原則としています。

この憲法には、次のようなことが書かれています。

『日本国民は、③正しく選挙された国会の代表者を通じて行動し、わたしたちと子孫のために、世界の人々となかよく協力し合い、自由のもたらす恵みを国土の全体にわたって確かなものにし、④政府の手によって再び戦争の災いが起こることのないようにしようと決意し、ここに主権が国民にあることを宣言して、この憲法を確定します。

⑤国の政治は、国民からゆだねられた厳粛な行為であって、その権威はもともと国民がもっているもので、政治の力は国民の代表者によって使われ、⑥そこから得られる幸福と利益は国民が受けるものです。これは、人類全体に通じる根本の原理であって、この憲法は、このような原理にもとづいてつくられました。

⑦日本国民は、世界中がいつまでも平和であることを願い、平和を愛する世界の人々の心を信頼して、安全に暮らしていこうと決意しました。わたしたちは、世界の人々が平和で自由に、明るく暮らしていこうと努めている国際社会の中で、りっぱに責任を果たしていきたいと思います。

国際社会では、どんな国でも、(C)自分の国のことだけを考えて、ほかの国を無視することはできません。わたしたちは、正しい政治のやり方は、どこの国にも通用するもので、これに従いながら自分の国を守り、対等につき合うことがだいじだと信じます。

日本国民は、国の名譽にかけて、全力をあげて、この憲法の高い理想と目的を達成することをちかいます。』

問1 下線部(A)の日は、その後ある国民の祝日として定められました。それは何の日ですか。

問2 下線部(B)の①～③の原則を、それぞれなるべく簡単なことばで書きなさい。

問3 『 』の中の文は、憲法の最初におかれています。この部分を何と
いいますか。

問4 下線部①～③は①～③の原則のどれともっとも関係がありますか。それ
ぞれ1～3の数字のどれかで答えなさい。

問5 ③の原則にもとづいて、この憲法の第9条で再び戦争をしないことと、戦
争をしないために二つのことを決めました。戦争をしないために決めたこ
とを一つ、なるべく簡単なことばで書きなさい。

問6 下線部(C)のようなことが起こらないように、第二次世界大戦後まもなく
から、世界の多くの国々がいっしょになって活動している組織があります。
その名前を書きなさい。

下書用紙

下書用紙

